

ENERO 2025

3º Primaria

Nombre: _____

LUNES

MARTES

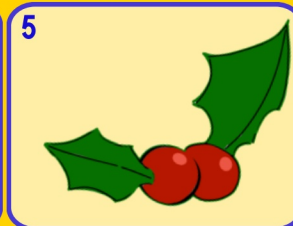
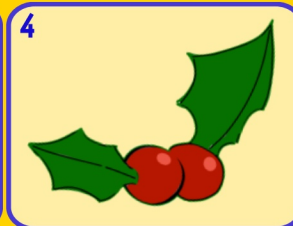
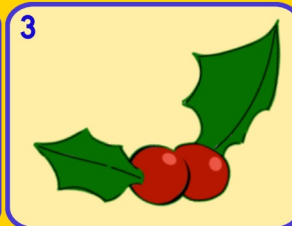
MÉRCOLES

JUEVES


VIERNES

SÁBADO

DOMINGO



6 **Día de Reyes**



8 Indica el número de decenas y la cifra de las decenas
853

9 ¿Cuál es su doble?
628
¿Cuál es su mitad?
546

10 ¿Cuál es su amigo del 1000?
689

11 Calcula mentalmente
 9×7
 90×7
 90×70

12 Escribe la UM anterior y posterior
4807

13 Suma los pares y resta número impar
483 236
855

14 A qué número llegamos si patimos del...
560
|△○|△○—

15 Esta mañana corrí 6 km y por la tarde 2300m
¿Cuántos km he corrido en todo el día?

16 Inventa un problema de restar en el que sea el sustraendo sea
88

17 Redondea los números a las decenas y a las centenas más próxima
708 882

18
Haz la casita con 4 descomposiciones

19 Añade
4C 23D y 200U
203

20 ¿Cuál es el triple y el cudruple de este número?
44

21 Escribe como se lee este número si se trata de dinero?
7,46 €

22 Escribe tres números más pequeños que no sean inferiores a
18D
190

23 **Día Internacional de la educación**
¿Cuál es su amigo del 1?
0,46

24 A qué número llegamos si patimos del...
600
⊖ | △ — ⊖ |

25 Resta mentalmente
568 - 398

26 **Día víctimas del holocausto**
Suma mentalmente
763 + 297

27 Escribe un problema de sumar con dinero en el que sea un sumando
2,08 €

28 Calcula estos productos
8D x 6
8C x 64
8D x 6D

29 ¿Cómo marcará un reloj analógico esta hora?

30 **Día Escolar de la Paz y NO Violencia**
¿Cuántos litros son 2,5 L y 500 cl?

31 Escribe un número que tenga más decenas que este
290

www.Penyagolosaeduca.com

actiludis.com
Imágenes de palillos
calculoabn.com

Para usar el calendario matemático con Scratch.



Imágenes
FREEPIK