

# ENERO

# 5º 2025

## Primaria

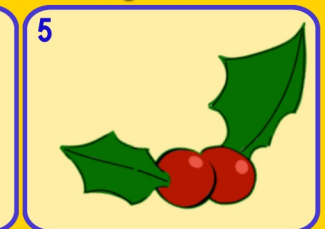
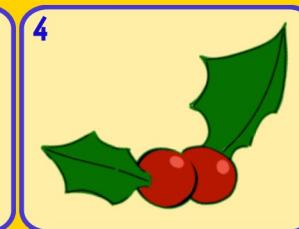
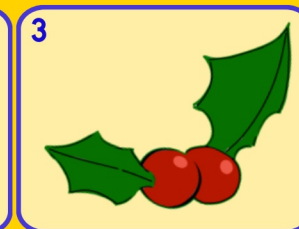
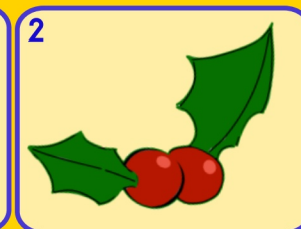


MÉRCOLES JUEVES VIERNES SÁBADO DOMINGO

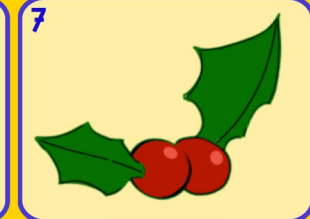
Nombre: \_\_\_\_\_

LUNES

MARTES



6 **Día de Reyes**



8 Si a 5U le quitas  
4,5U 5d  
¿Cuánto queda?

9 Escribe 4 números  
entre estos dos.  
0,76 0,75

10 Descompón para  
que tengas decenas  
y unidades.  
0,45

11 Inventa un problema  
de dividir en el que  
sea el dividendo  
0,15

12 ¿Cuál mentalmente?  
23,42 +  
18,58

13 Iguala estas canti-  
des e indica cuanto  
da el mayor al menor  
0,08 2,34

14 Expresa como  
fracción la parte  
roja y la blanca.

15 De 0,25  
¿Cuánto falta para  
llegar al número?  
1,70

16 Redondea los números  
a las decenas y a las  
centenas más próxima  
951

17 ¿Qué número es?  
23 DM 56 UM  
32 CM

18 He cortado siete lazos  
de esta longitud.  
¿Cuánto medía el trozo  
original?  
0,25 m

19 Inventa una serie de 10  
números que de una a  
otra vaya esta cantidad  
0,6

20

Descompón de  
4 formas distintas

21 ¿Que número  
falta para que sean  
equivalentes?  
 $\frac{4}{6}$   $\frac{8}{?}$

22 Redondea 7 634 a  
tres números en:  
UM - C  
D

23 **Día Internacional  
de la educación**  
Multiplica mental-  
mente por 3

3,6

24 ¿Cuánto falta para  
llegar a 45 DM?  
405 000

25 A qué número llegamos  
si patimos del...  
700  
| ⊖ - Δ | ⊖

26 **Día víctimas  
del holocausto**  
Calcula  
mentalmente  
0,98 x 3

27 ¿Cuál es su mitad?  
0,576  
¿Cuál es su doble?  
0,57

28 Calcula mentalmente  
7,5 + 5 - 2,5

29 ¿Qué números es?  
**MCDXLV**

30 **Día Escolar de  
la Paz y NO Violencia**  
¿Cuántos cuartos de  
kg hay?  
1,75 Kg

31 Pedro tiene  
68,35 kg de harina y lo  
quiere vender en paque-  
tes de 0,5 kg. ¿Cuántos  
paquetes hará?

www.Penyagolosaeduca.com

actiludis.com  
Imágenes de palillos  
calculoabn.com

Para usar el calendario matemático con Scratch.



Imágenes:  
**FREEPIK**