

ENERO

1º 2025

Primaria



Nombre: _____

LUNES

MARTES

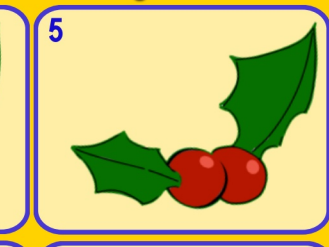
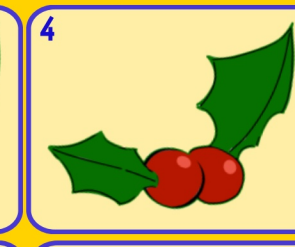
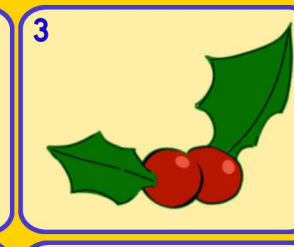
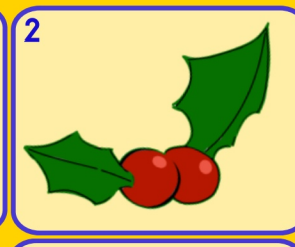
MÉRCOLES

JUEVES

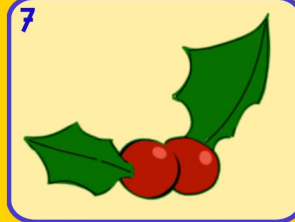
VIERNES

SÁBADO

DOMINGO



6 **Día de Reyes**



8 ¿Qué número es
4 D y 8 U

9 Añade 2 D y 4 U
15

10 Escribe en letra el
números anterior
y posterior al...
49

11 A qué número
llegamos desde el...
14
| — | | |

12 Del 0 al 10 ¿Qué
números no están
entre:
5 y 8

13 Escribe el doble
de estos números
6 4 3

14 Escribe el ordinal
de estos números.
1º 2º 3º

15
¿Cuánto dinero
hay?

16 ¿Cuántas decenas
hay?
¿Qué número es?

17 Si tienes estas decenas
y quitas 6 unidades.
¿Cuánto quedará?

18 Indica el número
de unidades y la
cifra de las unidades
15

19 ¿Qué números es?

20
Descompón de 4
formas distintas.

21 Escribe los números que
están entre estos dos
14 18

22 Cuenta de 2 en 2
del 11 al 25

23 **Día Internacional
de la educación**
¿Cuál es su amigo
del 10?
 6 7

24 A qué número llegamos
si partimos del...
35
— — |||| — ○

25 Escribe la decena
anterior y posterior
34

26 **Día víctimas
del holocausto**
¿Cómo se
llama esta
figura?

27 ¿Cuántas decenas
hay aquí?
20 + 10 + 20

28 ¿Qué
número falta?
— + 5 = 8

29 Escribe un número
cuya cifra de las
decenas sea mayor
y las unidades menor
72

30 **Día Escolar de
la Paz y NO Violencia**
Cuenta de 2 en 2
hasta el cero
 16

31 Si pagas 3 euros
¿cuánto te devuelven?

www.Penyagolosaeduca.com

actiludis.com
Imágenes de palillos
calculoabn.com

Para usar el calendario matemático con Scratch.



Imágenes:
FREEPIK