

# ENERO 2025

## 4º Primaria

Nombre: \_\_\_\_\_

LUNES

MARTES

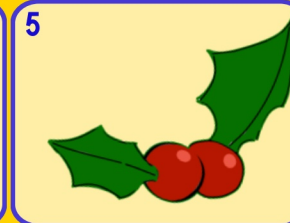
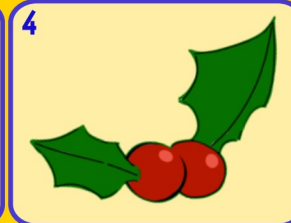
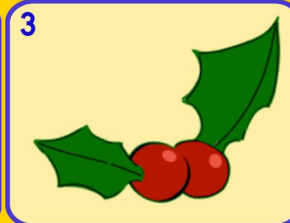
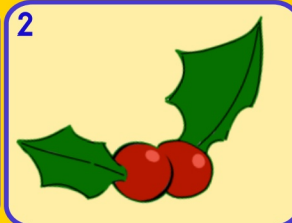
MÉRCOLES

JUEVES


VIERNES

SÁBADO

DOMINGO



6 **Día de Reyes**



8 A qué número llegamos si patimos del...  
300  
- ○ △ | ○ △ |

9 Quita  
21C y 200U  
2 346

10 ¿Cuántos litros son  
1,5 L y 500 cl?

11 ¿Cuál es su mitad?  
546  
¿Cuál es su doble?  
537

12 Suma mentalmente  
273 + 397

13 Indica el número de decenas y la cifra de las decenas  
3468

14 Añade  
23C y 12D  
A...  
673

15 Suma los pares y resta el número impar  
242    237  
156

16 Ordena de > a <  
 $\frac{4}{6}$     $\frac{8}{6}$     $\frac{2}{6}$

17 Esta mañana corrí 4 km y por la tarde 4500 m  
¿Cuántos km he corrido en todo el día?

18 Escribe 6 números de 5 cifras con todas estas cifras  
5   4   3  
2   0

19 Redondea los números a las decenas y a las centenas más próxima  
348    951

20   
Haz la casita con 4 descomposiciones

21 Redondea 7 634 a tres números en:  
UM - C  
D

22 ¿Cuál es el triple y el cudruple de este número?  
26

23 **Día Internacional de la educación**  
¿Cuál es su amigo del 1000?  
376

24 Escribe como se lee este número si se trata de dinero?  
5,32 €

25 A qué número llegamos si patimos del...  
700  
| ⊖ - △ | ⊖

26 **Día víctimas del holocausto**  
Resta mentalmente  
457 - 298

27 Escribe tres números más pequeños que no sean inferiores a 39D  
300

28 Calcula estos productos  
7 x 8  
70 x 8  
70 x 80

29 Calcula estos productos  
6D x 4  
6C x 4  
6D x 4D

30 **Día Escolar de la Paz y NO Violencia**  
¿Cuál es la 1/4 parte de esta cantidad?  
24

31 ¿Qué hora es?

www.Penyagolosaeduca.com

actiludis.com  
Imágenes de palillos  
calculoabn.com

Para usar el calendario matemático con Scratch.



Imágenes  
FREEPIK