

Nombre: _____

NOVIEMBRE 2024

5° PRIMARIA



LUNES

MARTES

MIÉRCOLES

JUEVES

VIERNES

SÁBADO

DOMINGO

4 Escribe el número de UM y la cifra de las UM

567 891

5 Escribe el número de decenas y la cifra de las decenas


9746

6 Pasa a fracción


0,1
1
1,1

7 
Descompón de 4 formas distintas.

8 Indica la hora de dos formas diferentes



9 A qué número llegamos si partimos del **2525**



10 ¿Cuántos meses, semanas y días faltan para final de año?

2.5

11 Si fueran hm. ¿Cuánto faltaría para completar 5 km?

3.5

12 Suma mentalmente

74.24 + 25.86

13 Ordena de menor a mayor

$\frac{3}{5}$ $\frac{10}{5}$ $\frac{1}{5}$ $\frac{5}{5}$ $\frac{2}{5}$

14 Día mundial de la diabetes

Muúltiplicalo por 5

 **3,33**

15 De 90 centésimas ¿Cuánto falta para llegar al número?

2

16 Día mundial para la tolerancia

Calcula **35²**



17 Calcula mentalmente


88.88 - 49.49

18 Igualas estas cantidades

8.27 y 14.87


19 Día internacional del hombre

¿Cuánto es el 1/10?

 **80**

20 Día derechos del niño y de la niña

Quita **75C** y **8D**

 **10 000**

21 **9 999**

¿A qué número llegamos si añadimos... 1U? 1D? 1C?

22 conmemoración llegada del pueblo gitano

¿Qué número es?

 **CDLII**

23 Multiplica mentalmente por 8 y escribe el resultado.


258

24 Redondea a la DM y a las UM.

37 510

25 Día contra la violencia de género


¿Cuánto queda si rebajan un 75%?

 **8000**

26 Inventa un problema de dividir en el que sea el divisor

2.5

27 Día del maestro

 **25.4**

¿Cuál es su mitad?

28 ¿Cuánto será la 1/4 partes del número?

10.84

29 Cuántas decenas exactas hay en...?

562,5

30 Dibuja un pentágono regular y otro irregular

