

Nombre: _____

NOVIEMBRE 2024

1º PRIMARIA



VIERNES

SABADO

DOMINGO

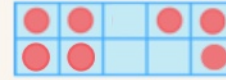
LUNES

MARTES


MIÉRCOLES

JUEVES

1 **Festividad de todos los santos**
¿Cuántos hay?



2 **Día de los fieles difuntos**
Escribe su anterior y posterior



3 ¿Cómo se lee este número?



4 Escribe su anterior y posterior



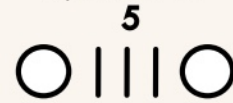
5 Número de unidades y cifra de las unidades

46

6 Descompón de todas las formas



7 A qué número llegamos si partimos de



8 Escribe los números impares que faltan hasta llegar al

9

9 Cuenta de 10 en 10 hasta el 50 desde el

2


10 ¿Qué número es el posterior?



11 Completa los números en la tabla del 100



12 ¿Cuál es el doble?



13 ¿Qué número es el anterior?




14 **Día mundial de la diabetes**
¿Cómo se llama esta figura?



15 Si parto del 15 y retrocedo 3.
¿A qué número llego?

16 **Día mundial para la tolerancia**
¿Qué número es?



17 Cuenta de 10 en 10 hacia atrás

50

18 Continúa la serie con dos números más:
14, 13, 12, ...

19 **Día internacional del hombre**
Pagas 3€ ¿Cuánto te devuelven?



20 **Día derechos del niño y de la niña**
¿Cuál es su mitad?



12

21 Escribe un número que no esté entre estos números

15 10

22 **conmemoración llegada del pueblo gitano**



23 ¿Qué número falta en esta operación?

$$12 - \dots = 10$$

24 A qué número llegamos si partimos del



25 **Día contra la violencia de género**
Escribe un número PAR que esté entre el 4 y el 9

26 ¿Cómo podemos llamar a este número?


27 **Día del maestro**
¿Cuál es su amigo del 10



28 Completa los números en la tabla del 100



29 ¿Qué números están entre estos?



30 ¿Qué número falta en esta operación?

$$5 + \dots = 11$$

