



Nombre: _____ Fecha: _____

Evaluación Inicial Matemáticas 2º Primaria



Numeración

1.- Dictado de números

--	--	--	--	--	--	--	--

2.- Completa las series numéricas:

a) 12, 14, 16, _____, _____, _____ b) 35, 30, 25, _____, _____, _____

3.- Escribe el número que es mayor y el que es menor en cada grupo:

a) 56, 42, 79 Mayor: _____ Menor: _____

b) 15, 8, 23 Mayor: _____ Menor: _____

4.- Descompón los siguientes números en unidades y decenas:

a) 48 = _____ decenas y _____ unidades


b) 72 = _____ decenas y _____ unidades

5.- Escribe el número anterior y posterior

a) , 42, b) , 29,

6.- Escribe el lugar que ocupan los señalados con una letra.

A) _____ B) _____





Nombre: _____ Fecha: _____

Evaluación Inicial Matemáticas 2º Primaria



Cálculo - Resolución de Problemas

1.- Resuelve las siguientes operaciones:

a) $48 + 37$

b) $38 - 15$

2.- Calcula el doble de estos números:

a) $6 =$ _____

b) $9 =$ _____

3.- Calcula la mitad de estos números:

a) $14 =$ _____

b) $32 =$ _____

4.- Marta tiene 13 caramelos y su amiga le da 9 más. ¿Cuántos caramelos tiene ahora Marta?

Respuesta: _____ caramelos.

5.- En una clase hay 20 niños y 15 niñas. ¿Cuántos niños y niñas hay en total?

Respuesta: _____ niños y niñas.

6.- Luis tenía 30 canicas, pero perdió 8. ¿Cuántas canicas tiene ahora?

Respuesta: _____ canicas.





Nombre: _____ Fecha: _____

Evaluación Inicial Matemáticas 2º Primaria

Medidas



1.- Escribe las unidades que usarías para medir:

a) La longitud de tu mesa: _____ (metros o centímetros)

b) El peso de tu mochila: _____ (gramos o kilogramos)

2.- Compara las siguientes longitudes usando “más largo” o “más corto”:

a) Un lápiz de 15 cm es _____ que una regla de 30 cm

b) Un libro de 20 cm es _____ que un borrador de 5 cm


3.- Lee con atención y contesta:

A un bote le cabe 1 litro de agua y a un cubo 2 litros de agua.

a) ¿Cuántos litros de agua hay si llenamos 2 botes y 1 botella? _____ l

b) ¿Cuántos litros de agua faltan para llenar dos cubos si ya hemos puesto 3 litros de agua? _____ l.


4.- ¿Cuánto dinero hay en este dinero?



€



5.- Si pagas con este billetes una cuenta que vale 39 euros.
¿Cuánto te devolverán?



€



actiludis.com



Este material puede compartirlo en redes sociales, blog y web enlazando al [silo original en actiludis.com](http://silo.original.en.actiludis.com)

Queda prohibido descargar para compartir desde un blog, web o sitio en la red, externo al original.





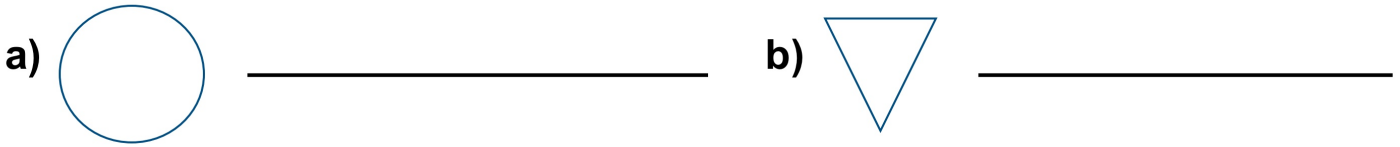
Nombre: _____ Fecha: _____

Evaluación Inicial Matemáticas 2º Primaria



Geometría

1. Observa las figuras y escribe su nombre:



2. Escribe cuántos lados y vértices tienen estas figuras geométricas:

a) Un triángulo: _____ lados y _____ vértices.


b) Un cuadrado: _____ lados y _____ vértices.

3. Dibuja las siguientes figuras geométricas:


a) Un rectángulo



b) Un cuadrado



4. Rodea la figura que tiene más lados



5. Escribe el nombre de la figura geométrica que se parece a estos objetos:

