

SEPTIEMBRE 2024

DOMINGO

1º PRIMARIA

LUNES

MARTES

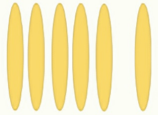
MIÉRCOLES

JUEVES

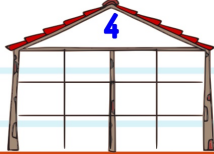
VIERNES

SABADO

2 ¿Cuántos palillos hay?



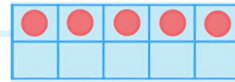
3 Descompón de todas las formas



4 Busca todos los números que sumen:



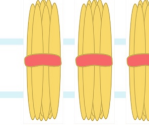
5 ¿Cuántos hay?



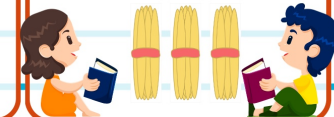
6 Busca todos los números que sumen:

7

7 ¿Cuántas decenas hay?



8 Día Internacional de la alfabetización
¿Qué número es?



9 ¿Cuál es el doble?



10 ¿Cuál es la mitad?



11 ¿Qué número es el posterior?



12 Si parto del 5 y retrocedo 3.
¿A qué número llego?

13 Continúa la serie con dos números más:
2, 4, 6, ..., , ...

14 Si parto del 3 y cuanto 4 más.
¿A qué número llego?

15 Día Internacional de la democracia

Escribe un número IMPAR



16 Día Internacional de la Preservación de la Capa de Ozono.

Escribe un número PAR

17 ¿Qué números están entre estos?



18 ¿Qué número falta en esta operación?

$$3 + \dots = 5$$

19 Inventa un problema de sumar en el que el resultado sea

4

20 ¿Qué número es el anterior?



21 Día Internacional de la PAZ
¿Cuánto falta para llegar a 5 desde el 3?



22 Continúa la serie con dos números más:
8, 6, 4, ...

23 ¿Qué números son el anterior y el posterior?



24 Escribe un número que NO esté entre estos números

3 8

25 A qué número legamos si partimos del

6



26 Día marítimo mundial
¿Cómo se llama esta figura?



27 Dibuja un círculo

28 ¿Cuántas decenas representan estos círculos?



29 ¿Qué número falta en esta operación?

$$4 - \dots = 3$$

30 Inventa un problema de restar en el que el resultado sea

2



www.Penyagolosaeduca.com

Para usar el calendario matemático con Scratch.

Este material puede compartirlo en redes sociales, blog y web enlazando al sitio original en actiludis.com o en penyagolosaeduca.com. Queda prohibido descargar para compartir desde un blog, web o sitio en la red, externo al original. Personajes palillos calculoabn.com

Imágenes con licencia designed by freepik.com