

Nombre: _____

AGOSTO 2024 2º PRIMARIA



LUNES

MARTES

MIÉRCOLES

JUEVES

VIERNES

SABADO

DOMINGO

1 Suma 32D y 32U
320


2 ¿Cuál es son sus amigos del 1000?
250 275

3 ¿Cuál el doble de cada número?
6 16 26

4 
Descompón de 4 formas distintas.

5 Calcula el resultado
500U - 45D

6 Indica el número de unidades y cifra de las unidades
468

7 ¿Qué hora es?


8 Escribe el minuendo y el sustraendo para que sea la solución.
12


9 ¿Qué número se forma?
2C 30D 400U

10 Inventa un problema de restar en el que sea e minuendo.
300

11 Escribe la mitad de estos números
8 28 48

12 Inventa un problema de sumar y otro de restar con estos datos
36 46 10

13 Suma mentalmente
348
252


14 A qué número llegamos si patimos del
518


15 Escribe 2 números pares mayores y menores.
777

16 Inventa un problema de sumar en el que sea el resultado
120

17 Escribe el ordinal de estos números.
12º
11º 16º

18 Inventa un problema de restar en el que sea el minuendo
74

19 ¿Cuál es su mitad?
36 

20 Un sobre de cromos cuesta 15 céntimos. ¿Cuánto cuestan 2? ¿Y 4? ¿Y 8?


21 ¿Cuántas decenas hay?
707

22 Escribe en la centena anterior y posterior
606

23 Si tienes estas centenas y quitas 20 Unidades. ¿Cuánto quedará?
2 C

24 Si tengo ahorrado 43,35 € ¿Cuánto me falta para tener 50 €?

25 Continúa la serie:
42, 39, 36,
... 5

26 Escribe el nombre de estas figuras


27 ¿De qué tipo y cuántas monedas de céntimos hay en esta cantidad?
77,77 €

28 Añade 1 centena y 7 decenas
32

29 ¿Qué meses hay entre mayo y septiembre?

30 Dibuja un pentágono e indica todo lo que sepas de él.

31 Multiplica por 8
4
40
400

