


# 1º PRIMARIA JULIO 2024




## LUNES MARTES MIÉRCOLES JUEVES VIERNES SÁBADO DOMINGO

**1** ¿Qué número se forma?  
7D 62U

**2** ¿Cuál es son sus amigos del 100?  
35 29

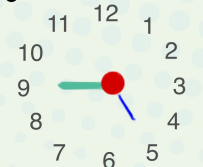
**3** Día Intr. libre bolsas de plástico  
Suma 6D y 14U  
45



**4** Escribe el doble y la mitad  
28

**5** Escribe en número su anterior y su posterior  
56 67

**6** Inventa un problema de restar en el que sea el minuendo.  
36


**7** ¿Qué hora es?  


**8** Inventa un problema de sumar y otro de restar con estos datos  
18 31 45

**9** Iguala estas cantidades  
67 21

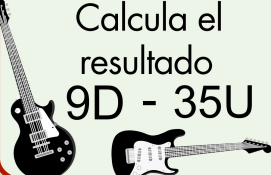
**10** Si tengo ahorrado 2,15 €  
¿Cuánto me falta para...?  
10 €

**11** Día mundial de la población  
Suma  
56 y 19



**12** Continúa la serie:  
44, 41, 38, ... 8

**13** Día mundial del rock  
Calcula el resultado  
9D - 35U



**14** A qué número llegas si partimos del 45  


**15** Un chicle cuesta 7 céntimos.  
¿Cuánto cuestan 2?  
¿y 4? ¿y 8?


**16** Añade 4 decenas y 40 unidades  
25

**17** Si tienes estas decenas y quitas 38  
¿Cuánto quedará?  
4

**18** Día internacional de Nelson Mandela  
¿Cuál es su doble?  
 48

**19** ¿Qué día del mes será dentro de una semana?

**20** Escribe el minuendo y el sustrando para que sea la solución.  
23


**21** Día mundial del perro  
¿Cuántas decenas hay?  
 37

**22** Descompón de 4 formas distintas.  
96

**23** Indica el número de unidades y cifra de las unidades  
21

**24** Escribe 2 números pares mayores y menores.  
25

**25** Inventa un problema de sumar en el que sea un sumando  
62



**26** Día de los abuelos  
¿Cuál es su mitad?

**27** ¿Qué meses van antes y después de julio?

**28** Escribe la decena anterior y posterior  
54

**29** Escribe el ordinal de estos números.  
5º 8º 1º

**30** Dibuja un cuadrado y un rectángulo. Explica en qué se diferencian

**30** ¿Qué tipo de monedas y billetes hay en esta cantidad?  
37,24

Imágenes de patitos calculador.com

