


LOS CAMINOS DE LA TABLA DEL 100

100 TESOROS BAJO LA ISLA DE TERREROS

¡UTILIZA TUS PALILLOS
Y TUS SÍMBOLOS!

1		3	4	5		7	8	9	10
11		13		15		17			20
21		23		25		27			30
31		33		35		37			40
41		43		45		47			50
51		53		55		57			60
61		63		65		67			70
71		73		75		77			80
81		83		85		87			90
91	92	93		95	96	97			100









COMPLETA LA TABLA DEL 100


2

100 TESOROS BAJO LA ISLA DE TERREROS

¿CUÁNTAS ESTRELLAS DE MAR HAY?
 HAY?

¿CUÁNTAS FALTAN PARA QUE HAYA 10? DIBÚJALAS...

1									10
									
									
									
91	92	93	94	95	96	97	98	99	100





COMPLETA LA TABLA DEL 100

4

100 TESOROS BAJO LA ISLA DE TERREROS

¿CUÁNTOS CABALLITOS HAY?

¿CUÁNTOS FALTAN PARA QUE HAYA 10? DIBÚJALOS...

1									10
91	92	93	94	95	96	97	98	99	100








COMPLETA LA TABLA DEL 100

5


100 TESOROS BAJO LA ISLA DE TERREROS

¿CUÁNTOS PULPOS HAY?
 ¿CUÁNTOS FALTAN PARA QUE
 HAYA 10? DIBÚJALOS...

1			4		6				10
	92	93			96	97			100



COMPLETA LA TABLA DEL 100








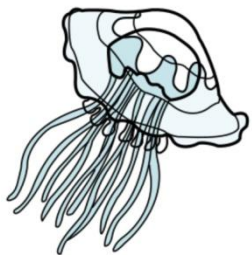
100 TESOROS BAJO LA ISLA DE TERREROS

6

¿CUÁNTAS TORTUGAS HAY?
 ¿CUÁNTAS FALTAN PARA QUE HAYA 10? DIBÚJALAS...

1									10
91	92	93	94	95	96	97	98	99	100





COMPLETA LA TABLA DEL 100

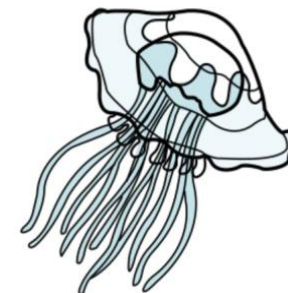
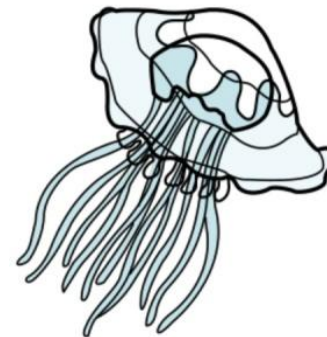
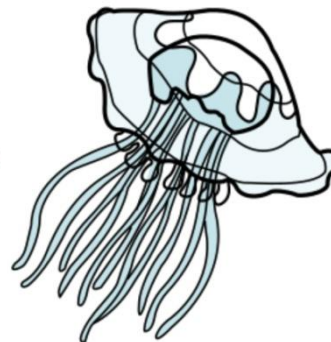
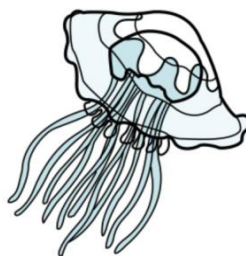
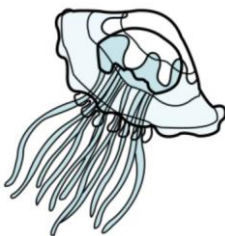
7

100 TESOROS BAJO LA ISLA DE TERREROS

¿CUÁNTAS MEDUSAS HAY?

¿CUÁNTAS FALTAN PARA QUE HAYA 10? DIBÚJALAS...

1									10
91	92	93	94	95	96	97	98	99	100



COMPLETA LA TABLA DEL 100

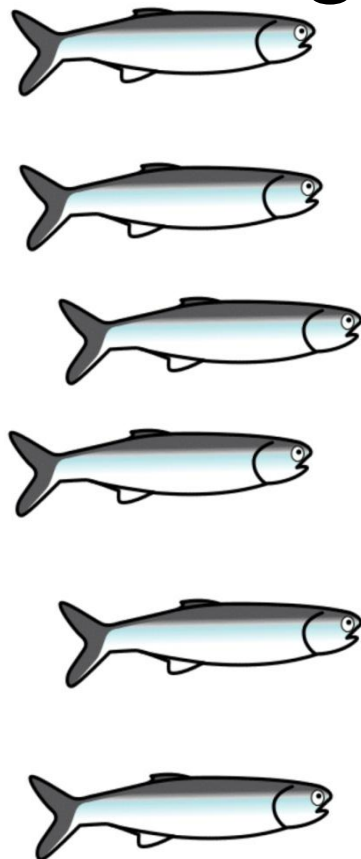

8



100 TESOROS BAJO LA ISLA DE TERREROS

¿CUÁNTOS BOQUERONES HAY?
 ¿CUÁNTOS FALTAN PARA QUE HAYA 10? DIBÚJALOS...

1									10
91	92	93	94	95	96	97	98	99	100



COMPLETA LA TABLA DEL 100

9




100 TESOROS BAJO LA ISLA DE TERREROS

¿CUÁNTOS CANGREJOS HAY?
¿CUÁNTOS FALTAN PARA QUE HAYA 10? DIBÚJALOS...

1						7			10
11									
					96	97	98	99	100










COMPLETA LA TABLA DEL 100

10

100 TESOROS BAJO LA ISLA DE TERREROS


¿CUÁNTAS GAVIOTAS HAY?
¿CUÁNTAS FALTAN PARA QUE HAYA 10? DIBÚJALAS...

1					6				10
91	92	93	94	95	96	97	98	99	100



COMPLETA LA TABLA DEL 100










11






100 TESOROS BAJO LA ISLA DE TERREROS

¿CUÁNTAS DORADAS HAY?

¿CUÁNTAS FALTAN PARA QUE HAYA 20? DIBÚJALAS...

1									10
									
									
									
91	92	93	94	95	96	97	98	99	100





COMPLETA LA TABLA DEL 100













100 TESOROS BAJO LA ISLA DE TERREROS

12

¿CUÁNTOS CORMORANES HAY?

¿CUÁNTOS FALTAN PARA QUE HAYA 20? DIBÚJALOS...

1				5					10
									
									
									
91	92	93	94	95	96	97	98	99	100

