


Nombre: \_\_\_\_\_

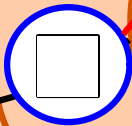
Fecha: \_\_\_\_\_

¿Quién comprará el castillo? ¿El caballero de los números negros, o el de los números blancos?

Para averiguarlo haz los cálculos y arrastra la suma de cada uno dentro del círculo y pentágono. El mayor lo comprará.



$6 + 6 =$



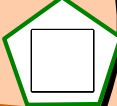
+

=

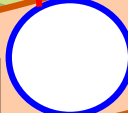
$1 + 1 =$

$7 + 7 =$


$40 + 40 =$




$20 + 20 =$



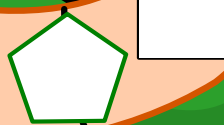
$4 + 4 =$



=  $9 + 9$



=  $90 + 90$




$80 + 80 =$

$50 + 50 =$

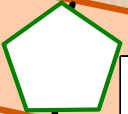


$30 + 30 =$



$3 + 3 =$


=  $10 + 10$



=  $60 + 60$




$8 + 8 =$



$2 + 2 =$



$5 + 5 =$



$70 + 70 =$



SE VENDE

SE LO QUEDA EL CABALLERO...



actiludis.com



Me gusta actiludis



focaclipart.tk

Con licencia designed by freepik.com

Este material puede compartirlo en redes sociales, blog y web enlazando al sitio original en actiludis.com. Queda prohibido descargar para compartir desde un blog, web o sitio en la red, externo al original.