

Abri1 2020

NOMBRE: _____

1º PRIMARIA

LUNES

MARTES

MIÉRCOLES



JUEVES


VIERNES

SÁBADO

DOMINGO


6 A qué número llegamos desde el...
12
| | — | ○ | ○



7 Día mundial de la salud
Escribe la decena anterior y posterior
 **33** 


8 Día Internacional del Pueblo Gitano
Cuenta de 2 en 2 hasta el cero
 **25**


9 Inventa un problema de sumar que el resultado sea...
12

10 Escribe un número cuya cifra de las decenas sea menor y las unidades mayor.
27


11 Continúa la serie con 6 elementos más



12 Día intern. vuelos espaciales tripulados
¿Cuántas decenas hay?
 


13 Día internacional del beso
Añade 3D y 4U
25 


14 ¿Cuánto dinero hay?


15 Inventa un problema de restar en el que el resultado es...
9

16 Día intern. contra la esclavitud infantil
Escribe el ordinal de estos números.
 **1º 5º 6º**


17 Día mundial lucha campesina
Escribe el doble
 **2 4 8**


18 Día Europeo derechos de los pacientes
¿Cuál es su mitad?
 **8**


19 Día mundial de la bicicleta
Calcula en rejilla
38 + 57


20  **48**
Descompón de 4 formas distintas.

21 Completa el patrón
23 + 7 = 30
33 + 7 = ___
43 + 7 = ___
53 + 7 = ___


22 Día intern. de la madre tierra
Calcula en rejilla
57 - 38



23 Día mundial del libro y Derechos de autor
Escribe los números pares entre estos dos
 **18 28**


24 Día intr. concienciación contra el ruido
¿Qué número falta?
 **___ + 6 = 11**

25 Cálcula completando la decena más cercana
24 - 19 = ___

26 A qué número llegamos si partimos del...
22
||| — ○ — | ⊖

27 Si tienes estas decenas y quitas 6 unidades. ¿Cuánto quedará?


28 ¿Qué hora es?
 **12:00**

29 Día Internac. danza
Escribe el amigo del 100
 **60**

30 Día inter. jazz
Calcula
 

