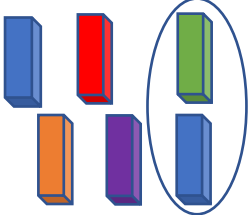


Resolución de problemas: CM5 y CM6

Jugando a la Jenga Emma ha quitado 6 maderitas.




Ha quitado 2 maderitas más que Luca.

Piensa, ¿quién ha quitado más maderitas? _____

Si Emma ha quitado 4 más, Luca ha quitado _____

¿Cuántas maderitas ha quitado Luca?

Jugando a las damas Emma ha capturado 5 fichas.



Ha capturado 4 fichas menos que Luca.

Piensa, ¿quién ha capturado menos fichas? _____

Si Emma ha capturado 5 menos, Luca ha capturado _____

¿Cuántas fichas ha capturado Luca?

Comprendo el enunciado.

1. Completa la tabla siguiente y aprende lo que implican los conceptos "más que" y "menos que" en este tipo de problemas.

Maderitas de Emma	Emma ha quitado ...	Por tanto, Luca ha quitado ...	Maderitas de Luca
15	4 más que Luca	4 menos	$15 - 4 = 11$
27	9 menos que Luca		
51	23 menos que Luca		
33	17 más que Luca		

Iníciate.

2. María ha ahorrado 34€ para poder comprarse su juego de mesa favorito. Ha ahorrado 12€ más de lo que realmente cuesta el juego. ¿Cuánto dinero cuesta el juego?

Ha ahorrado



12€ más de lo que cuesta el juego.

Opera y resuelve: ○ =

3. Sergio ha hecho un puzle de 20 piezas. Su puzle tiene 76 piezas menos que el puzle que ha hecho Aitana. ¿Cuántas piezas tiene el puzle que ha hecho Aitana?

Piezas del puzle de Sergio




76 piezas menos que el puzle de Aitana

Opera y resuelve: ○ =


Avanza un paso más.

4. Se llevan disputados 7 partidos de la liga escolar de baloncesto. El equipo de los Puma lleva anotados ya 213 puntos en total, 137 más que el equipo de los Patos. ¿Cuántos puntos lleva anotado el equipo de los Patos?



Solución:

5. En el centro comercial he visto 2 ofertas que me han llamado mucho la atención. Una bicicleta cuesta 346€. Cuesta 185€ menos que un televisor. ¿Cuánto dinero cuesta el televisor?



Solución:

6. Carlota ha dado hoy 5 vueltas completas al parque con sus nuevos patines. Ha recorrido un total de 715,5 metros. 13,72 dam más que su amigo Diego y 12,75 dam menos que su hermana Daniela. ¿Cuántos metros ha recorrido Diego? ¿Cuántos dam ha recorrido Daniela?



Solución:

Inventa, crea y razona.



7. Los datos del siguiente problema se han perdido. Selecciona los datos adecuados y coloca cada uno en su lugar para que la solución del problema sea la que te proponemos.

Al partido de balonmano de esta semana han acudido _____ espectadores. Fueron _____ personas menos que al partido de la semana pasada. ¿Cuántos espectadores estuvieron viendo el partido la semana pasada?

47

125

Solución: La semana pasada **estuvieron viendo el partido 403 personas.**

278