


Nombre: _____

3º PRIMARIA



ENERO 2019

MARTES

MIÉRCOLES

JUEVES

VIERNES

SÁBADO

DOMINGO



LUNES

1 **•AÑO NUEVO•**



2 ¿Cuál es su amigo del 100?

37

3 Escribe la centena anterior y posterior

681

4 Escribe en número y letra todos los números de 3 cifras que puedas formar con...

5 4 3

5 ¿Cuál es su amigo del 1000?

372

6 **•Día de Reyes•**
Añade 5C 12D y 100U



280

7 Indica el número de decenas y la cifra de las decenas

274

8 A qué número llegamos si patimos del...

300
- O Δ | O Δ |

9 Quita 3C 32D y 300U

940

10 Escribe un número que tenga más decenas que este

290

11 Calcula estos productos

7 x 8
70 x 8
70 x 80

12 Suma mentalmente

273 + 397

13 Resta mentalmente

457 - 298

14 Iguala estas cantidades e indica cuanto da el mayor al menor

64 y 86

15 Suma los pares y resta número impar

242 237
156

16 Resta el lunes próximo y suma el de ayer

44

17 Esta mañana corrí 4 km y por la tarde 4500 m
¿Cuántos km he corrido en todo el día?

18 Inventa un problema de restar en el que sea el sustraendo sea

43

19 Redondea los números a las decenas y a las centenas más próxima

348 951

20 Haz la casita con 4 descomposiciones



21 Inventa un problema de dividir en el que este sea el divisor

8

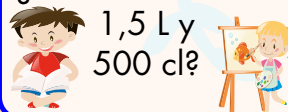
22 ¿Cuál es el triple y el cuduple de este número?

26

23 Escribe como se lee este número si se trata de dinero?

5,32 €

24 **•Día Internacional de la educación•**
¿Cuántos litros son 1,5 L y 500 cl?



25 A qué número llegamos si patimos del...

700
| ⊖ - Δ | ⊖

26 Escribe tres números más pequeños que no sean inferiores a

39D
300

27 **•Día víctimas del holocausto•**
¿Cuál es su doble?



28 Escribe un problema de sumar con dinero en el que sea un sumando

6,75 €

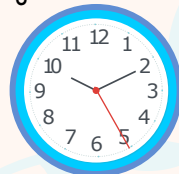
29 Calcula estos productos

6D x 4
6C x 4
6D x 4D

30 **•Día Escolar de la Paz y NO Violencia•**
¿Cuál es su mitad?



31 ¿Qué hora es?



actiludis.com

Con licencia designed by freepik.com

