

Nombre: _____

Fecha: _____

PRODUCTOS MENTALES CON DECIMALES

Observa el ejemplo y usa en cada operación un procedimiento distinto para ejercitar el cálculo mental con los siguientes productos.

$$0,68 \times 3$$

DIRECTO

$$0,60 \times 3 = 1,80$$

$$0,08 \times 3 = 0,24$$

$$1,80 + 0,24 = 2,04$$

REDONDEO

$$0,70 \times 3 = 2,10$$

$$0,02 \times 3 = 0,06$$



$$2,10 - 0,06 = 2,04$$

TRANSFORMAR

$$0,68 \times 100 = 68$$

$$68 \times 3 = 204$$

$$204 : 100 = 2,04$$



DIRECTO $0,77 \times 4$

$$0,70 \times 4 = 2,80$$

$$0,07 \times 4 = 0,28$$


$$2,80 + 0,28 = 3,08$$

REDONDEO $0,97 \times 6$

$$1 \times 6 = 6$$

$$0,03 \times 6 = 0,18$$

$$6 - 0,18 = 5,82$$




TRANSFORMAR $0,58 \times 7$

$$0,58 \times 100 = 58$$

$$58 \times 7 = 406$$

$$406 : 100 = 4,06$$



ELIGE EL MODO $0,89 \times 5$

$$0,80 \times 5 = 4,00$$

$$0,09 \times 5 = 0,45$$

$$4,45$$

$$1 \times 5 = 5$$

$$0,11 \times 5 = 0,55$$

$$5 - 0,55 = 4,45$$

$$0,89 \times 100 = 89$$

$$89 \times 5 = 445$$

$$445 : 100 = 4,45$$

